

Inhalt

Ziffern und Plus bis 10

Ziffer 1	5
Ziffer 2.....	6
Ziffer 3.....	7
1 2 3	8
Ziffer 0	9
Ziffer 4	10
Wir zählen bis 4	11
Ziffer 5	12
Zahlen bis 5	13
Wir zerlegen die 5	14
Bündeln bis 5	15
Ziffer 6	16
Wir rechnen plus bis 6.....	17
Wir zerlegen die 6	18
Ziffer 7	19
Wir zählen mit Strichen.....	20
Ziffer 8	21
Wir rechnen plus bis 8.....	22
Ziffer 9.....	23
Plus bis zur 9.....	24
Wir rechnen plus bis zur 9	25
Ziffer 10.....	26

Links und rechts

Links und rechts	27
Links und rechts 2.....	28
Links oder rechts ?.....	29

Orientierung im Zahlenraum 10

Vorgänger und Nachfolger	30
Vorgänger und Nachfolger 2.....	31
Größer und kleiner	32
Größer und kleiner 2	33
Größer und kleiner 3	34

Plus bis 10

Zerlegehäuser	35
Tauschaufgaben	36
Tauschaufgaben 2.....	37
Ergänzen	38
Lückenaufgaben	39
Rechenmauern	40
Rechenmauern 2	41
Rechenmauern 3.....	42

Geometrie

Flächenformen.....	43
Wir zeichnen Muster	44
Wir wiederholen	45

Kombinatorik

Was soll Leni anziehen?.....	46
Wir zeichnen Muster	47

Geld bis 10

Der Euro.....	48
---------------	----

Der Cent	49	Wir wiederholen	74
Geldbeträge legen.....	50	Wir wiederholen	75
Wer hat mehr?	51	Spielzeug - Flohmarkt	76
Wiederholung	52	Verdoppeln	77
		Verdoppeln 2	78
<u>Minus bis 10</u>		Die Merkaufgabe hilft.....	79
Minus	53		
Minus 2.....	54	<u>Verliebte Zahlen</u>	
Minus 3.....	55	Verliebte Zahlen	80
Umkehraufgaben	56	Verliebte Zahlen 2.....	81
Umkehraufgaben 2.....	57		
3 Zahlen - 4 Aufgaben	58	<u>Zehnerübergang</u>	
3 Zahlen - 4 Aufgaben 2	59	Bis zur 10, dann weiter	82
Wir wiederholen	60	Bis zur 10, dann weiter 2	83
Rechenkreise mit Ohren	61	Über die 10 am Zahlenstrahl	84
Rechenkreise mit Ohren 2	62	Über die 10 am Zahlenstrahl	85
<u>Zahlen bis 20</u>		<u>Zehnerunterschreitung</u>	
Die großen Zahlen	63	Zurück zur 10, dann weiter	86
Die großen Zahlen 2.....	64	Zurück zur 10, dann weiter 2	87
Vorgänger und Nachfolger	65	Zurück zur 10, dann weiter 3	88
Das Zwanzigerfeld.....	66		
Am Zahlenstrahl.....	67	<u>Gemischte Aufgaben mit ZÜ</u>	
		Wir üben fleißig.....	89
<u>Rechnen bis 20 ohne ZÜ</u>		Rechenmauern	90
Plus - kleine Aufgabe hilft	68	Rechenmauern 2	91
Plus - kleine Aufgabe hilft 2	69	Wir teilen gerecht.....	92
Minus - kleine Aufgabe hilft	70	Halbieren	93
Minus - kleine Aufgabe hilft 2.....	71	Gerade und ungerade Zahlen.....	94
Plus und minus im 2. Zehner	72	3 Zahlen - 4 Aufgaben.....	95
Wir wiederholen	73	Wiederholung	96

Zeit

Wie spät ist es?	97
Ganze Stunden	98
Ganze Stunden 2	99
Die Zeit vergeht	100
Der Tag hat 24 Stunden	101
Der Tag hat 24 Stunden	102

Gemischte Aufgaben bis 20

Geldbeträge legen	103
Wer hat mehr?	104
Rechendreiecke 1	105
Rechendreiecke 2	106

Wahrscheinlichkeit

Murmeln ziehen	107
----------------------	-----

Geometrie

Wir zeichnen nach	108
-------------------------	-----



Hallo bei meiner Matheheldin!

Neben der Arbeit mit dem Lehrwerk und einem Arbeitsheft brauche ich trotzdem viele Arbeitsblätter, um etwas einzuführen, zu vertiefen oder schlicht zum vielfältigen Üben!

Meine Arbeitsblatt-Sammlung soll Dir den Alltag in der 1. Klasse etwas vereinfachen und dich hoffentlich im „Notfall“ retten - eine echte Matheheldin bin ich.

Liebe Grüße

Frau Locke

Impressum

Verlag: Matobe Verlag GmbH, Hoppenberg 12, 33142 Büren

Autorin: Nicole Trapp

Redaktion: Joachim Hönig

Layout: Nicole Trapp

Bilder/Cliparts: Nicole Trapp

Schrift: Frau Locke Schriftarten

© 2019, Matobe Verlag GmbH


Alle Rechte vorbehalten. Das Werk und seine Teile sind urheberrechtlich geschützt.

Weitergabe, auch auszugsweise, nur mit schriftlicher Genehmigung des Verlages.

Weitere Informationen zu unseren Titeln: www.matobe-verlag.de



Wir üben die 2





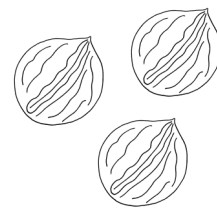
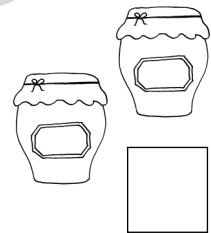
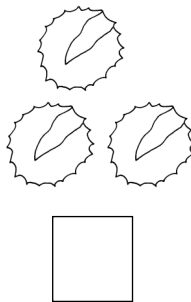
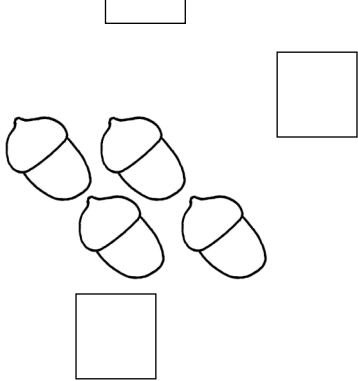
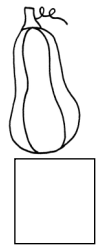

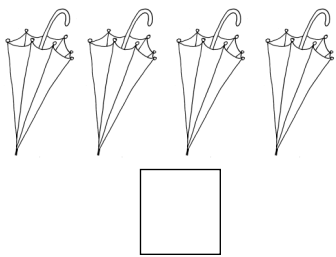


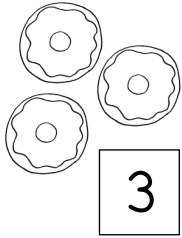
2	2	2					
---	---	---	--	--	--	--	--

2	2	2	2						
---	---	---	---	--	--	--	--	--	--

2	2	2									
2	2	2									

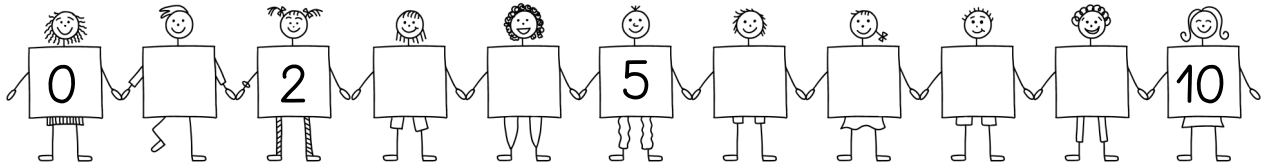


Wir zählen bis 4




Vorgänger und Nachfolger

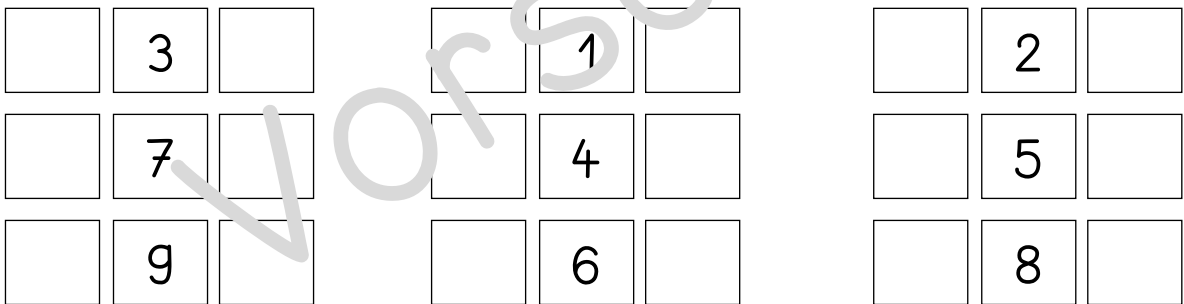
①



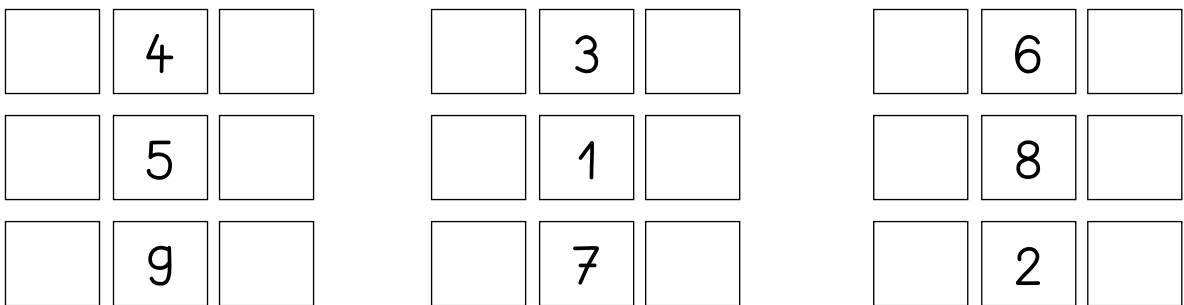
②



③



④

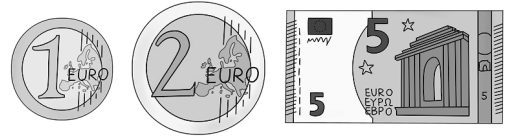




Name: _____



Der Euro



①

€	€	€							
---	---	---	--	--	--	--	--	--	--

②

<input type="text" value="€"/>	<input type="text"/>	<input type="text"/>	<input type="text"/>

③


<input type="text"/>	<input type="text"/>	<input type="text"/>	<input type="text"/>

④


4 €	5 €	7 €	10 €
<input type="text"/>	<input type="text"/>	<input type="text"/>	<input type="text"/>
3 €	6 €	8 €	10 €

3 Zahlen - 4 Aufgaben 2


①



$$\begin{array}{r} \square + \square = \square \\ \square - \square = \square \\ \square + \square = \square \\ \square - \square = \square \end{array}$$




$$\begin{array}{r} \square + \square = \square \\ \square - \square = \square \\ \square + \square = \square \\ \square - \square = \square \end{array}$$




$$\begin{array}{r} \square + \square = \square \\ \square - \square = \square \\ \square + \square = \square \\ \square - \square = \square \end{array}$$


②



$$\begin{array}{r} \square + \square = \square \\ \square - \square = \square \\ \square + \square = \square \\ \square - \square = \square \end{array}$$




$$\begin{array}{r} \square + \square = \square \\ \square - \square = \square \\ \square + \square = \square \\ \square - \square = \square \end{array}$$




$$\begin{array}{r} \square + \square = \square \\ \square - \square = \square \\ \square + \square = \square \\ \square - \square = \square \end{array}$$


③



$$\begin{array}{r} \square + \square = \square \\ \square - \square = \square \\ \square + \square = \square \\ \square - \square = \square \end{array}$$



$$\begin{array}{r} \square + \square = \square \\ \square - \square = \square \\ \square + \square = \square \\ \square - \square = \square \end{array}$$



$$\begin{array}{r} \square + \square = \square \\ \square - \square = \square \\ \square + \square = \square \\ \square - \square = \square \end{array}$$



Wir wiederholen

①

$9 - 4 = \square$	$8 - 6 = \square$	$7 - 1 = \square$	$9 - 4 = \square$
$7 - 3 = \square$	$9 - 5 = \square$	$5 - 5 = \square$	$10 - 2 = \square$
$3 - 1 = \square$	$8 - 4 = \square$	$10 - 3 = \square$	$8 - 5 = \square$
$4 - 2 = \square$	$6 - 2 = \square$	$8 - 6 = \square$	$10 - 3 = \square$

②

$5 + 4 = \square$	$8 - 4 = \square$	$9 - 4 = \square$	$9 - 9 = \square$
$8 - 2 = \square$	$6 + 2 = \square$	$4 + 2 = \square$	$8 + 1 = \square$
$4 + 3 = \square$	$7 - 1 = \square$	$5 + 3 = \square$	$5 - 3 = \square$
$6 - 5 = \square$	$4 + 4 = \square$	$9 - 7 = \square$	$10 - 7 = \square$

③

$7 - \square = 2$	$5 - \square = 3$	$9 - \square = 3$	$6 - \square = 2$
$5 - \square = 4$	$2 - \square = 2$	$5 - \square = 2$	$8 - \square = 4$
$9 - \square = 7$	$5 - \square = 1$	$6 - \square = 4$	$9 - \square = 2$
$6 - \square = 4$	$8 - \square = 2$	$5 - \square = 4$	$7 - \square = 3$

④

$\square + \square = \square$	$\square + \square = \square$	$\square + \square = \square$
$\square - \square = \square$	$\square - \square = \square$	$\square - \square = \square$
$\square + \square = \square$	$\square + \square = \square$	$\square + \square = \square$
$\square - \square = \square$	$\square - \square = \square$	$\square - \square = \square$













Das Zwanzigerfeld


①


1				5					10
11				15					20


②


1		3		5	6		8	9	
	12		14	15		17			20



□



□



□



□


□


□


□


□


□

③

1	2	3
11		

6		

11	

	5
	15

	20

	14	

5		
		17

	3	
		14

7		
		19

18	

		9



Minus - Die kleine Aufgabe hilft 2

①

$20 - 2 = \square$	$19 - 6 = \square$	$17 - 4 = \square$
$15 - 1 = \square$	$18 - 6 = \square$	$19 - 5 = \square$


②

$14 - 3 = \square$	$14 - 2 = \square$	$15 - 3 = \square$
$16 - 2 = \square$	$19 - 1 = \square$	$17 - 2 = \square$
$18 - 5 = \square$	$16 - 3 = \square$	$19 - 8 = \square$
$17 - 1 = \square$	$14 - 4 = \square$	$15 - 4 = \square$
$19 - 7 = \square$	$20 - 3 = \square$	$18 - 3 = \square$
$11 - 1 = \square$	$15 - 4 = \square$	$14 - 2 = \square$


③

$15 \xrightarrow{+3} \square$ $\square \xrightarrow{-3} 15$	$12 \xrightarrow{+7} \square$ $\square \xrightarrow{-} 12$	$16 \xrightarrow{+4} \square$ $\square \xrightarrow{-} 16$
$13 \xrightarrow{+4} \square$ $\square \xrightarrow{-} 13$	$11 \xrightarrow{+} \square$ $\square \xrightarrow{-} 11$	$17 \xrightarrow{+} \square$ $\square \xrightarrow{-} 17$

Verliebte Zahlen




①



②

10	
1	+
2	+
3	+
4	+
5	+
6	+
7	+
8	+
9	+

③



④

$4 + \square = 10$

$5 + \square = 10$

$8 + \square = 10$

$1 + \square = 10$

$7 + \square = 10$

$3 + \square = 10$

$9 + \square = 10$

$2 + \square = 10$

$6 + \square = 10$